






BILAG: MØDE 1

TIPSKUPON

TIPSKUPON EXPLORER

Nr.	Spørgsmål	1	X	2
1	Hvad hedder de 4 verdenshjørner?	Nord, syd, øst og vest	Op, ned, højre og venstre	Nord, syd, højre og venstre
2	Hvad er en "marchpil"?	Den røde pil, der altid peger mod nord	Når vej man går fremad på et kort	Den pil, der er tegnet på kompasset
3	Hvad vej peger kompasspilen?	Nord/syd	Nord/øst	Øst/vest
4	Hvor mange grader er der på et kompas?	180 grader	360 grader	400 grader
5	Hvad betyder denne signatur? 	Kommunegrænse	Jernbane	Vej
6	Hvad betyder denne signatur? 	Stiplet linie	Sti	Å
7	Hvad betyder denne signatur? 	Bygning	Kirke	Bondegård
8	Hvad er et kompasshus?	Spejderhytten, hvor kompasset ligger	En kasse, hvor der opbevares kompasser	Den runde del af kompasset, der kan drejes rundt
9	Hvad betyder denne streg? 	Grøn rute	Rød rute	Gul rute
10	Hvad ligger ved 0 grader?	Nord	Syd	Øst
11	Kan man bruge Google Maps uden internetforbindelse?	Ja	Nej	Nogle gange
12	Kan man måle distance på Google Maps?	Ja, men kun via rute	Nej	Ja, i fugleflugt
13	Kan I finde vej ved hjælp af kort og kompas nu?	Ja	Nej	Ved ikke
Antal rigtige				